

# **EGZAMIN MATURALNY OD ROKU SZKOLNEGO 2014/2015**

## **FIZYKA POZIOM ROZSZERZONY**

### **PRZYKŁADOWY ZESTAW ZADAŃ DLA OSÓB Z AUTYZMEM, W TYM Z ZESPOŁEM ASPERGERA (A2)**

**Czas pracy: 180 minut**

Czas pracy będzie wydłużony zgodnie z opublikowanym w 2014 r.  
Komunikatem Dyrektora CKE.


**GRUDZIEŃ 2013**

**Zadanie 1. (3 pkt)**

Podczas gry w badminton zawodniczka uderzyła lotkę na wysokości 2 m, nadając jej poziomą prędkość o wartości  $5 \frac{\text{m}}{\text{s}}$ . Lotka upadła w pewnej odległości od zawodniczki. Jest to odległość o jedną trzecią mniejsza od odległości upadku lotki przy pominięciu oporu powietrza. Przyjmij, że po uderzeniu lotki zawodniczka nie zmieniła swojego położenia.

**Oblicz, w jakiej odległości od zawodniczki upadła lotka.**

Miejsce na obliczenia:



### Zadanie 2. (1 pkt)

Dwie różne kulki o tej samej masie  $m$  uderzyły prostopadle w drewnianą ścianę z taką samą prędkością o wartości  $v$ . Kulka A po odbiciu poruszała się z przeciwną prędkością, natomiast kulka B ugrzęzła w ścianie. Oznaczmy jako  $p_A$  wartość pędu przekazanego ścianie przez kulkę A oraz jako  $p_B$  wartość pędu przekazanego ścianie przez kulkę B.

Z przedstawionych poniżej stwierdzeń dotyczących wartości pędów wybierz poprawne. Otocz kółkiem jedną z odpowiedzi (A, B, C, D lub E).

A.  $p_A = 0, \quad p_B = 0$

B.  $p_A = 0, \quad p_B = mv$

C.  $p_A = 2mv, \quad p_B = 0$

D.  $p_A = 2mv, \quad p_B = mv$

E.  $p_A = mv, \quad p_B = mv$

### Zadanie 3. (10 pkt)

W celu wyznaczenia gęstości nieznaney cieczy uczniowie badali zależność siły wyporu działającej na zanurzony w niej aluminiowy walec od głębokości jego zanurzenia. Zestaw doświadczalny składał się ze słoika z cieczą, siłomierza, statywu, linijki oraz aluminiowego walca z uchwytem. Ciężar walca wynosił  $Q = 2,7 \text{ N}$ , pole jego podstawy  $S = 10 \text{ cm}^2$ , a wysokość  $H = 10 \text{ cm}$ .


Doświadczenie miało następujący przebieg.

Uczniowie zawiesili aluminiowy walec na siłomierzu. Na statywie zamocowali siłomierz z możliwością przesuwania go w pionie. Pod walcem ustawili słoik z cieczą. Opuszczając siłomierz, zwiększali głębokość zanurzenia walca o ok. 2 cm. Za każdym razem linijką mierzyli wysokość niezanurzonej części walca i odczytywali wskazania siłomierza. Uczniowie zapisali wyniki swoich pomiarów w zaplanowanej tabeli.

**Zadanie 3.1. (2 pkt)**

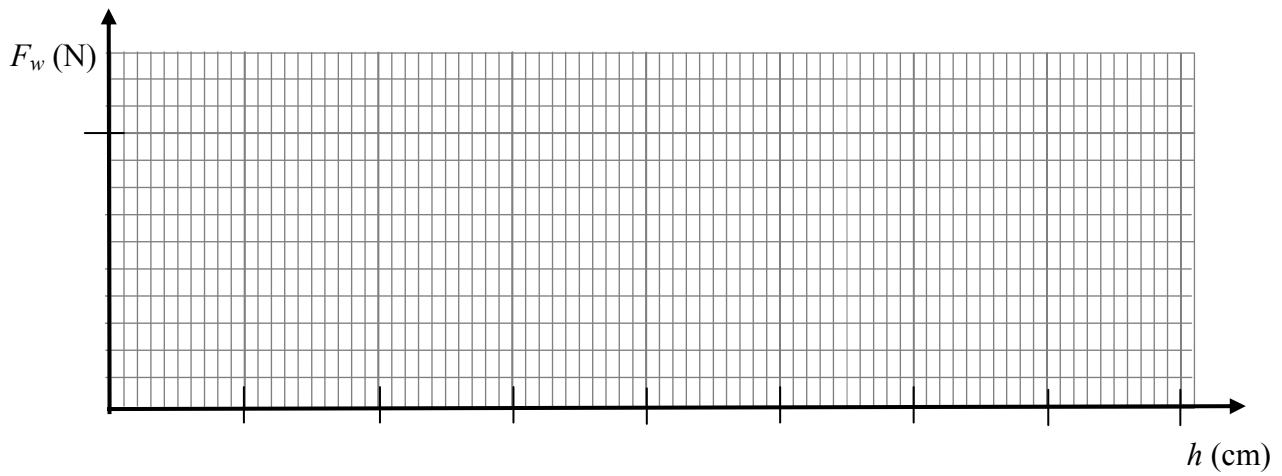
Wykaż, powołując się na prawa fizyki, że spodziewana zależność siły wyporu od głębokości zanurzenia  $h$  jest opisana funkcją liniową i współczynnik proporcjonalności wyrażony jest równaniem

$$A = \rho_{\text{cieczy}} \cdot g \cdot S.$$






Na podstawie tych wyników sporządź wykres analizowanej zależności, nanosząc punkty wraz z zaznaczeniem niepewności pomiarowych. Z nachylenia krzywej wyznacz gęstość badanej cieczy.




Podaj wartość gęstości w jednostkach układu SI. Przyjmij wartość przyspieszenia ziemskiego równą  $10 \frac{\text{m}}{\text{s}^2}$ .



**Zadanie 3.3. (1 pkt)**


Jeżeli uwzględnimy niepewności pomiarowe, to wyznaczona wartość gęstości cieczy użytej w opisanym na stronie 3. doświadczeniu mieści się w przedziale od  $970 \frac{\text{kg}}{\text{m}^3}$  do  $1190 \frac{\text{kg}}{\text{m}^3}$ .

**Oblicz średnią wartość gęstości tej cieczy oraz jej bezwzględną niepewność pomiarową.**



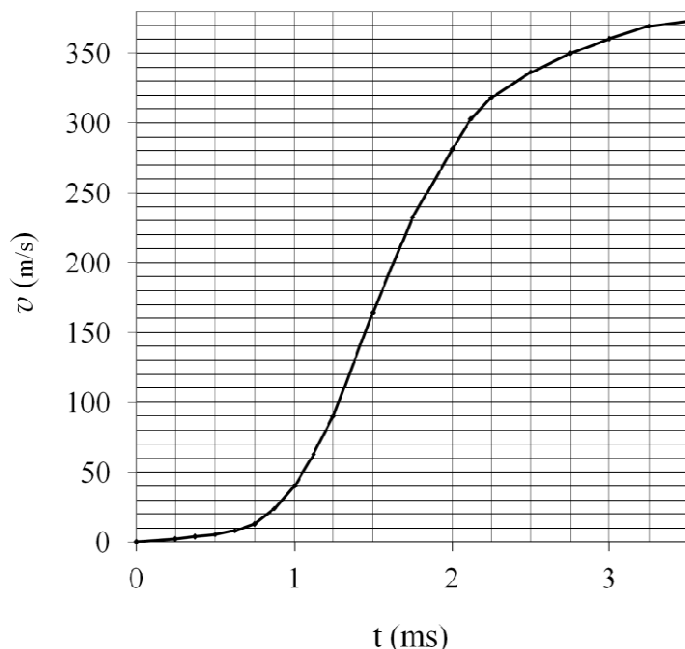
**Zadanie 3.4. (2 pkt)**

**Opisz i wyjaśnij, jak zmienilby się charakter wykresu, gdyby w opisanym na stronie 3. doświadczeniu użyto cieczy o większej gęstości.**



#### Zadanie 4. (2 pkt)

W strzelectwie sportowym używa się m.in. karabinów, które mają lufy o długości 70 cm. Zależność wartości prędkości pocisku od czasu podczas jego ruchu w lufie karabinu przedstawiona jest na wykresie.




W chwili wystrzału następuje zapłon prochu i powstaje duża ilość gazów spalinowych. Gazy spalinowe rozprężają się i wypychają pocisk z lufy.

**Uzupełnij poniższe zdanie na podstawie analizy wykresu.**

Ciśnienie gazów spalinowych w lufie osiągnęło największą wartość w chwili ..... ± 0,25 ms.

**Uzasadnij odpowiedź.**

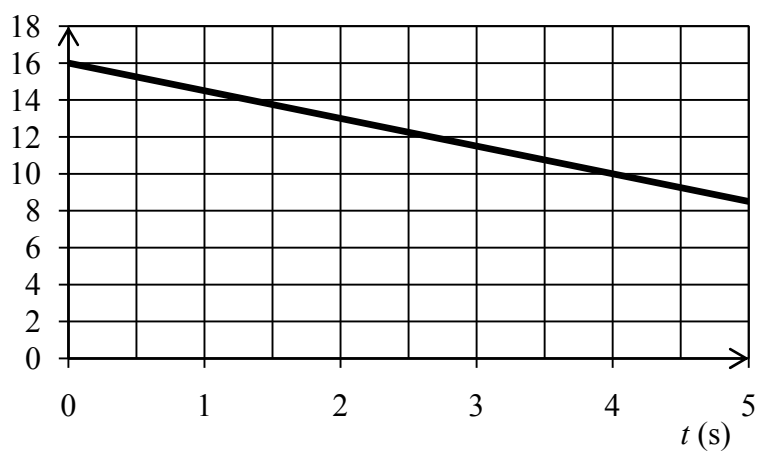





**Zadanie 5. (3 pkt)**

Poniższy wykres odnosi się do zadań 5.1 i 5.2. Wykres przedstawia zależność wartości pędu samochodu o masie 1200 kg od czasu.

$$p \left( 10^3 \frac{\text{kg} \cdot \text{m}}{\text{s}} \right)$$


**Zadanie 5.1. (2 pkt)**

Oblicz wartość przyspieszenia, z jakim porusza się samochód.



**Zadanie 5.2. (1 pkt)**

**Wyjaśnij, dlaczego na podstawie zamieszczonego na poprzedniej stronie wykresu można wyciągnąć wniosek, że wypadkowa sił działających na samochód jest skierowana przeciwnie do wektora pędu.**







**Zadanie 7. (1 pkt)**

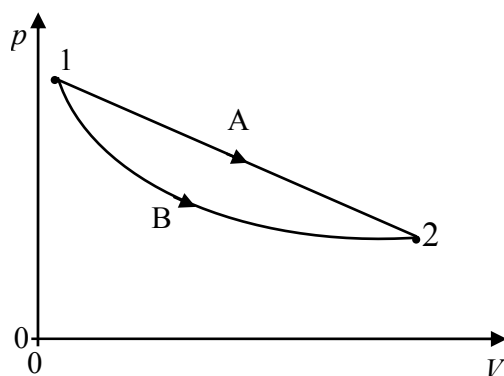
Dwa naczynia zawierały jednakowe ilości tego samego gazu o tej samej temperaturze. Gazy te ogrzewano, dostarczając im takiej samej ilości ciepła. W pierwszym przypadku proces był izobaryczny, a w drugim izochoryczny.

**Wybierz elementy A lub B oraz 1 lub 2 tak, aby poniższe zdanie było prawdziwe. Otocz kółkiem wybrane elementy.**

Przyrost energii wewnętrznej gazu ogrzewanego	<b>A.</b>	przy stałym ciśnieniu	był większy, ponieważ gaz ten	<b>1.</b>	wykonywał pracę	przeciwko ciśnieniu zewnętrznemu.
	<b>B.</b>	przy stałej objętości		<b>2.</b>	nie wykonywał pracy	

**Zadanie 8. (1 pkt)**

W dwóch naczyniach A i B przeprowadzono przemiany takich samych ilości tego samego gazu doskonałego. Na wykresie przedstawiono zależności ciśnienia od objętości dla obu gazów.



Oznaczmy:

$T_1$  jako temperaturę gazów w naczyniu A i B przed przemianą (punkt 1),

$T_2$  jako temperaturę gazów w naczyniu A i B po przemianie (punkt 2),

$Q_A$  jako ilość ciepła dostarczonego podczas przemiany gazu w naczyniu A,

$Q_B$  jako ilość ciepła dostarczonego podczas przemiany gazu w naczyniu B.

**Spośród podanych poniżej wybierz i otocz kółkiem poprawne relacje wynikające z przedstawionego wykresu.**

A.  $T_1 = T_2, Q_A = Q_B$

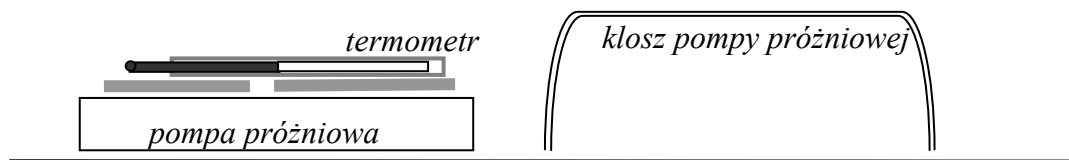
B.  $T_1 = T_2, Q_A > Q_B$

C.  $T_1 < T_2, Q_A > Q_B$

D.  $T_1 < T_2, Q_A = Q_B$

### Zadanie 9. (1 pkt)

Termometr laboratoryjny mierzący temperatury w zakresie od  $-10\text{ }^{\circ}\text{C}$  do  $50\text{ }^{\circ}\text{C}$  położono na stoliku pompy próżniowej, ale nie przykrywano kloszem (jak na rysunku).



Po ustaleniu równowagi termodynamicznej słupek rtęci wskazał temperaturę  $25\text{ }^{\circ}\text{C}$ . Następnie stolik z termometrem nakryto kloszem w sposób nienaruszający stanu równowagi termodynamicznej w układzie i bardzo powoli wypompowano powietrze spod klosza.

**Spośród podanych poniżej zaznacz wszystkie poprawne informacje, wpisując znak X w puste kratki.**

$25\text{ }^{\circ}\text{C}$  była temperaturą

- powietrza.
- rtęci.
- szkła, w którym znajduje się rtęć.
- stolika, na którym leży termometr.
- klosza pompy próżniowej.

Po nakryciu kloszem stolika z termometrem wskazanie termometru

- wzrosło.
- zmalało.
- nie zmieniło się.




**Zadanie 11. (0–5)**

**Zadanie 11.1. (3 pkt)**

Trzecie prawo Keplera sformułowane dla obiegu planet wokół Słońca można stosować dla dowolnych satelitów obiegających masywne obiekty, a więc między innymi dla Księżyca poruszającego się wokół Ziemi.

Przyjmijmy, że ruch Księżyca wokół Ziemi odbywa się po orbicie kołowej o promieniu  $r$  na skutek siły malejącej z odległością. Załóżmy, że siła powodująca taki ruch zmienia się wraz z odległością zgodnie z zależnością  $F \sim \frac{1}{r^n}$ .

**Wykaż w oparciu o trzecie prawo Keplera, że wartość  $n$  wynosi 2.**



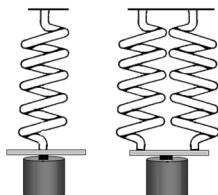






**Zadanie 14. (1 pkt)**

Rozważ dwa układy drgające przedstawione na rysunku. Wszystkie sprężyny są identyczne, a masy ciężarków – równe. Jeśli ciężarki zostaną wprowadzone w drgania, to okres drgań ciężarka na pojedynczej sprężynie wynosi  $T_1$ , a okres drgań ciężarka w układzie z dwoma sprężynami wynosi  $T_2$ .



Poniżej zapisano relacje pomiędzy okresami drgań ciężarków.

**Wybierz i otocz kółkiem prawidłową odpowiedź.**

A.  $T_1 = \frac{T_2}{\sqrt{2}}$

B.  $T_1 = T_2$

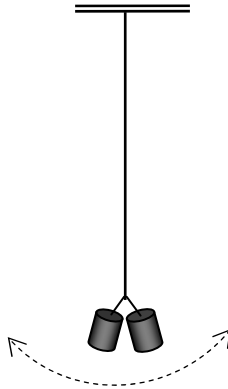
C.  $T_1 = \sqrt{2} \cdot T_2$

D.  $T_1 = 2 \cdot T_2$

### Zadanie 15. (1 pkt)

Na długiej nici zawieszono dwa identyczne, niewielkie ciężarki i wprowadzono w drgania. W chwili, gdy układ był maksymalnie wychylony, jeden z ciężarków odpadł, a ciężarek pozostały na nici nadal drgał. W obu przypadkach potraktuj drgający układ jako wahadło matematyczne i pominiń opory ruchu.

Odpadnięcie ciężarka może spowodować zmiany niektórych parametrów układu drgającego.



**Spośród podanych poniżej stwierdzeń A, B, C, D i E wybierz i otocz kółkiem prawidłowy opis zmian niektórych wielkości fizycznych charakteryzujących drgania układu.**

- A. Okres drgań i maksymalne wartości energii kinetycznej i potencjalnej nie zmienia się.
- B. Okres drgań nie zmieni się, zaś maksymalna wartość energii kinetycznej wzrośnie, a potencjalnej zmaleje.
- C. Okres drgań nie zmieni się, a maksymalne wartości energii kinetycznej i potencjalnej zmaleją.
- D. Okres drgań zmieni się, zaś maksymalna wartość energii kinetycznej zmaleje, a potencjalnej nie zmieni się.
- E. Okres drgań zmieni się, a maksymalne wartości energii kinetycznej i potencjalnej zmaleją.

**Zadanie 16. (1 pkt)**

Podczas rozładowywania statku dźwig przez pewien czas podnosił kontener ruchem jednostajnie przyspieszonym. Poniżej w tabeli zapisano stwierdzenia dotyczące energii kontenera i pracy wykonanej przez dźwig w tym czasie.

**Oceń prawdziwość poniższych zdań. Wybierz P, jeśli zdanie jest prawdziwe, lub F, jeśli jest fałszywe. Wstaw obok każdego zdania znak X przy wybranej odpowiedzi.**

	<b>P</b>	<b>F</b>
W tym czasie energia kinetyczna kontenera nie uległa zmianie, a energia potencjalna wzrosła.		
Praca wykonana w tym czasie przez dźwig była większa od zmiany energii potencjalnej kontenera.		





**Zadanie 20. (1 pkt)**

Jedną z wielkości charakteryzujących soczewki jest ich zdolność skupiająca. Zdolność skupiająca wyrażona w dioptriach jest odwrotnością ogniskowej soczewki wyrażonej w metrach.

W odległości 20 cm od soczewki o zdolności skupiającej 4 dioptrie umieszczono przedmiot.

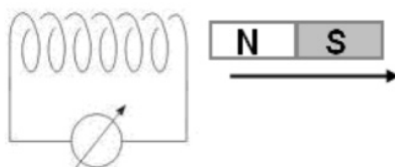
**Dokończ poniższe zdanie tak, aby było prawdziwe. Wybierz odpowiedź (A lub B) i jej uzasadnienie (1 lub 2). Otocz kółkiem wybrane odpowiedzi.**

Otrzymany obraz przedmiotu jest	<b>A.</b>	pozorny,	ponieważ odległość przedmiotu od soczewki jest	<b>1.</b>	większa	od jej ogniskowej.
	<b>B.</b>	rzeczywisty,		<b>2.</b>	mniejsza	



**Zadanie 21. (4 pkt)**

W pobliżu zwojnicy umieszczono magnes. Gdy zaczęto przesuwac go, tak jak wskazuje strzałka na rysunku, galwanometr wskazał przepływ prądu w obwodzie zwojnicy.

**Zadanie 21.1. (2 pkt)**


Spośród podanych w tabeli rysunków wybierz ten, na którym poprawnie zaznaczono kierunek przepływu prądu w obwodzie zwojnicy (otocz kółkiem swój wybór X lub Y).

Następnie dobierz poprawne stwierdzenie dotyczące wektorów: indukcji pola magnetycznego magnesu  $\vec{B}$  i indukcji wyindukowanego pola magnetycznego  $\vec{B}_i$ , wewnątrz zwojnicy (otocz kółkiem swój wybór 1. lub 2., lub 3., lub 4.).

X.		1.	wartość $\vec{B}$ maleje, $\vec{B}_i$ jest skierowany zgodnie z kierunkiem ruchu magnesu
		2.	wartość $\vec{B}$ maleje, $\vec{B}_i$ jest skierowany przeciwnie do kierunku ruchu magnesu
Y.		3.	wartość $\vec{B}$ rośnie, $\vec{B}_i$ jest skierowany zgodnie z kierunkiem ruchu magnesu
		4.	wartość $\vec{B}$ rośnie, $\vec{B}_i$ jest skierowany przeciwnie do kierunku ruchu magnesu

**Zadanie 21.2. (2 pkt)**

**Przesuwanie magnesu ma wpływ na wzajemne oddziaływanie zwojów zwojnicy zaprezentowanej na poprzedniej stronie. Określ charakter tego oddziaływania i uzasadnij odpowiedź.**



**Zadanie 22. (3 pkt)**


Rozszczepiona w pryzmacie wiązka światła białego pada na płytkę pokrytą sodem. Graniczna długość fali wywołującej zjawisko fotoelektryczne zewnętrzne w płytce pokrytej sodem odpowiada światłu zielonemu.

Tabela przedstawia długości fal w próżni odpowiadające poszczególnym barwom światła.

<b>Długość fali [nm]</b>	<b>Barwa światła</b>
650–780	czerwona
610–650	pomarańczowoczerwona
580–610	żółtopomarańczowa
550–580	żółtozielona
505–550	zielona
485–505	zielononiebieska
440–485	niebieska
415–440	indygo
380–415	fioletowa


**Zadanie 22.1. (1 pkt)**

Wyjaśnij, dlaczego z fragmentu płytki, na który pada światło o barwie żółtopomarańczowej, nie są emitowane elektrony.



**Zadanie 22.2. (2 pkt)**

**Wykaż, odwołując się do zamieszczonej na poprzedniej stronie tabeli, że największą maksymalną wartość prędkości mają elektrony wybite z fragmentu płytki, na który pada światło fioletowe.**




### Zadanie 23. (5 pkt)

#### Robert Greenler, *Tęcze, glorie i halo* [fragment]

Jeśli patrząc w górę daleko od Słońca, widzimy jasne, niebieskie niebo, oznacza to, że dochodzi stamtąd do naszych oczu światło słoneczne, które zmieniło po drodze kierunek. Kiedy światło dociera do atmosfery, część jego energii rozchodzi się we wszystkich kierunkach w procesie zwanym rozpraszaniem. Rozpraszanie światła słonecznego przez powietrze tłumaczy, dlaczego niebo jest jasne, ale żeby zrozumieć dlaczego jasne niebo jest niebieskie, musimy uwzględnić falową naturę światła. Wszystkie rodzaje fal są rozpraszane przez znajdujące się na ich drodze przeszkody. Kamień będzie rozpraszał fale na wodzie: będą się od niego rozchodzić drobne fale w nowych kierunkach. Przeszkoda bardzo mała w stosunku do długości fali nie będzie skutecznie rozpraszać. Ta sama przeszkoda będzie skuteczniej rozpraszać fale krótsze, dla których okaże się wystarczająco duża. To samo dzieje się ze światłem w atmosferze – elementy rozpraszające są mniejsze od długości fali światła widzialnego. Powietrze rozprasza światło, ponieważ nie jest ośrodkiem ciągłym, lecz składa się z odrębnych cząsteczek. Jeśli uznamy cząsteczkę za przeszkodę, to będzie ona tysiąc razy mniejsza niż długość fali światła. Cząsteczki nie są równomiernie rozłożone w przestrzeni, lecz zderzają się ze sobą, a zatem mogą przez chwilę tworzyć skupiska pewnej skończonej objętości. Takie statystyczne fluktuacje gęstości zdarzają się nieustannie i czynią powietrze grudkowatą strukturą, która rozprasza światło. Opierając się na tym statystycznym modelu, można oszacować, że rozmiary grudki są zbliżone do średniej odległości między cząsteczkami – co jeszcze jest sto razy mniej niż długość fali świetlnej. Możemy stwierdzić, że rozpraszające przeszkody są mniejsze niż długość fali światła widzialnego. W związku z tym fale krótsze (niebieskie) będą silniej rozpraszane niż fale dłuższe (czerwone). Jeśli ze światła przechodzącego przez atmosferę wyeliminowana zostanie wskutek rozproszenia niebieska część widma, to kolor nierozproszonej wiązki również musi się zmienić. W miarę jak rozpraszanie wycina coraz większą część krótkich fal – w czerwionawo. Tak właśnie zmienia się barwa Słońca w ciągu popołudnia. Im niżej Słońce świeci na niebie, tym bardziej wydłuża się droga promieni dochodzących przez atmosferę do oka obserwatora. O zachodzie (rozpraszanie na bardzo długiej drodze) jest tak duże, że Słońce wydaje się czerwone. Niebieskie niebo i czerwony zachód Słońca są dwoma dopełniającymi się aspektami tego samego zjawiska.


**Zadanie 23.1. (2 pkt)**

**Wyjaśnij, dlaczego światło niebieskie jest rozpraszane intensywniej niż czerwone.**

A large grid of graph paper, consisting of 20 columns and 25 rows of small squares, intended for the student to write their explanation.

**Zadanie 23.2. (3 pkt)**

**Wyjaśnij, jaki kolor ma niebo na Księżycu w jasny księżycowy dzień (kiedy Słońce znajduje się nad jego horyzontem) i dlaczego Słońce zachodzące na Księżycu nie jest czerwone. Odpowiedź uzasadnij.**

A large grid of graph paper, consisting of 20 columns and 25 rows of small squares, intended for writing the answer to the question.

**BRUDNOPIS**  
**(nie podlega ocenie)**

