

**WYPEŁNIA ZESPÓŁ NADZORUJĄCY**

KOD

|  |  |  |
|--|--|--|
|  |  |  |
|--|--|--|

PESEL

|  |  |  |  |  |  |  |  |  |  |  |  |
|--|--|--|--|--|--|--|--|--|--|--|--|
|  |  |  |  |  |  |  |  |  |  |  |  |
|--|--|--|--|--|--|--|--|--|--|--|--|

*Miejsce na naklejkę.*  
*Sprawdź, czy kod na naklejce to*  
**E-Q00.**

# EGZAMIN MATURALNY Z INFORMATYKI

**POZIOM ROZSZERZONY**

**CZĘŚĆ I**

**TEST DIAGNOSTYCZNY**

TERMIN: **marzec 2021 r.**

CZAS PRACY: **do 90 minut**

LICZBA PUNKTÓW DO UZYSKANIA: **15**

## WYPEŁNIA ZDAJĄCY

WYBRANE:

.....  
(system operacyjny)

.....  
(program użytkowy)

.....  
(środowisko programistyczne)



EINP-R1-**Q00**-2103

## **Instrukcja dla zdającego**

1. Sprawdź, czy arkusz egzaminacyjny zawiera 15 stron (zadania 1–3).  
Ewentualny brak zgłoś przewodniczącemu zespołu nadzorującego egzamin.
2. Odpowiedzi zapisz w miejscu na to przeznaczonym przy każdym zadaniu.
3. Pisz czytelnie. Używaj długopisu/pióra tylko z czarnym tuszem/atramentem.
4. Nie używaj korektora, a błędne zapisy wyraźnie przekreśl.
5. Pamiętaj, że zapisy w brudnopisie nie będą oceniane.
6. Wpisz zadeklarowane (wybrane) przez Ciebie na egzamin system operacyjny, program użytkowy oraz środowisko programistyczne.
7. Na tej stronie oraz na karcie odpowiedzi wpisz swój numer PESEL i przyklej naklejkę z kodem.
8. Nie wpisuj żadnych znaków w części przeznaczonej dla egzaminatora.

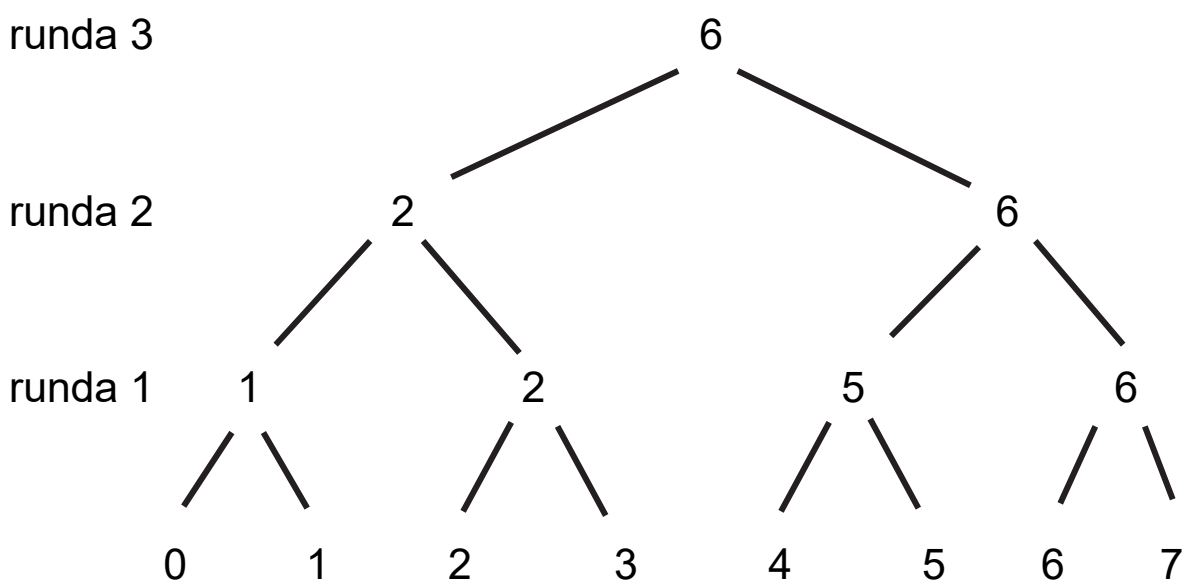
## Zadanie 1. Turniej

W turnieju siatkówki bierze udział  $n$  drużyn ponumerowanych kolejnymi liczbami całkowitymi od 0 do  $n - 1$ , gdzie  $n = 2^k$  dla pewnej liczby całkowitej  $k > 0$ . Turniej odbywa się w rundach systemem pucharowym – przegrywający odpada z turnieju. W każdej rundzie drużyny grają w parach i do dalszej rundy przechodzi tylko zwycięzca meczu. W każdej rundzie mecze są ponumerowane kolejnymi liczbami całkowitymi, poczynając od 1. W pierwszej rundzie w meczu nr 1 grają drużyny 0 i 1, w meczu nr 2 – drużyny 2 i 3, w meczu nr 3 – drużyny 4 i 5, w meczu nr  $i$  – drużyny  $2 \cdot (i - 1)$  oraz  $2 \cdot (i - 1) + 1$ , itd. W każdej z kolejnych rund w meczu nr 1 grają zwycięzcy meczów o numerach 1 i 2 z poprzedniej rundy, w meczu nr 2 – zwycięzcy meczów o numerach 3 i 4 z poprzedniej rundy, w meczu nr  $i$  – zwycięzcy meczów o numerach  $2 \cdot i - 1$  oraz  $2 \cdot i$  z poprzedniej rundy itd. Turniej trwa dokładnie  $k$  rund.

**Dalsza część zadania na następnej stronie.**

## Przykład

Przykładową rozgrywkę w turnieju 8-drużynowym przedstawiono w postaci drzewa na rysunku poniżej. Na najniższym poziomie rysunku drzewa zapisano numery drużyn, natomiast w węzłach wewnętrznych – numery zwyciężskich drużyn w poszczególnych meczach. Zwycięzcą turnieju została drużyna nr 6, która w meczu finałowym pokonała drużynę o numerze 2.



Numer rundy, w której mogą zmierzyć się dwie drużyny o numerach  $x$  i  $y$ , można wyznaczyć z zapisów binarnych liczb  $x$  i  $y$  o długości  $k$  (liczba rund). Twoim zadaniem jest odkrycie tej zależności.


**Dalsza część zadania na następnej stronie.**

### Zadanie 1.1. (0–2)

Dla podanej liczby  $k$  (liczba rund w turnieju) oraz numerów drużyn  $x$  i  $y$  wyznacz numer rundy w turnieju, w której te dwie drużyny mogą się zmierzyć ze sobą.


| $k$ | $x$ | $y$ | $x$<br>dwójkowo | $y$<br>dwójkowo | nr rundy, w której mogą się zmierzyć drużyny $x$ i $y$ |
|-----|-----|-----|-----------------|-----------------|--|
| 3   | 2   | 6   | 010             | 110             | 3  |
| 4   | 0   | 3   | 0000            | 0011            | 2  |
| 4   | 3   | 7   | 0011            | 0111            |  |
| 5   | 16  | 30  | 10000           | 11110           |  |

Miejsce na obliczenia:



**Dalsza część zadania na następnej stronie.**





**Kolejne zadanie na następnej stronie.**

## Zadanie 2. Analiza algorytmu

Wykonaj analizę funkcji  $Algo(n)$ , której argumentem jest dodatnia liczba całkowita  $n$ .

$Algo(n)$

**jeżeli**  $n \leq 2$  **to**

wynikiem jest 1

**w przeciwnym przypadku**

$p \leftarrow 1$

$k \leftarrow n$

**dopóki**  $k - p > 1$  **wykonuj**

$s \leftarrow (p + k) \text{ div } 2$

**jeżeli**  $s * s \leq n$  **to**

$p \leftarrow s$

**w przeciwnym przypadku**

$k \leftarrow s$

wynikiem jest  $p$

**Uwaga:**  $div$  oznacza dzielenie całkowite.




**Zadanie 2.1. (0–2)**

Uzupełnij tabelę – podaj wynik funkcji *Algo* dla podanych w tabeli wartości *n*.

| <i>n</i> | Wynik otrzymany po wywołaniu <i>Algo(n)</i> |
|----------|---|
| 5        | 2   |
| 35       |   |
| 1025     |   |

Miejsce na obliczenia:




**Dalsza część zadania na następnej stronie.**

**Zadanie 2.2. (0–3)**

Uzupełnij tabelę – podaj liczbę wykonań instrukcji „ $s \leftarrow (p + k) \text{ div } 2$ ” podczas obliczania wartości funkcji  $Algo(n)$  dla podanych wartości  $n$ .

| $n$  | Liczba wykonań instrukcji<br>„ $s \leftarrow (p + k) \text{ div } 2$ ”<br>podczas obliczania wartości funkcji $Algo(n)$ |
|------|---|
| 5    | 2   |
| 2    |   |
| 63   |   |
| 1024 |   |

Miejsce na obliczenia:



**Kolejne zadanie na następnej stronie.**

### Zadanie 3. Test

Oceń prawdziwość podanych zdań. Zaznacz **P**, jeśli zdanie jest prawdziwe, albo **F** – jeśli jest fałszywe.

W każdym zadaniu punkt uzyskasz tylko za komplet poprawnych odpowiedzi.

#### Zadanie 3.1. (0–1)

W komórce C1 arkusza kalkulacyjnego zapisano formułę:

=JEŻELI(ORAZ(MOD(A1;2)=1;MOD(B1;2)=1);A1+B1;A1\*B1)

|    |   |   |   |
|----|---|---|---|
| 1. | Jeśli w A1 wpisano liczbę 1, a w B1 liczbę 3, to w C1 w wyniku obliczenia formuły pojawi się liczba 4.                                  | P | F |
| 2. | Jeśli w A1 wpisano liczbę 4, a w B1 liczbę 3, to w C1 w wyniku obliczenia formuły pojawi się liczba 3.                                  | P | F |
| 3. | Jeśli w A1 i B1 wpiszemy dowolną liczbę całkowitą dodatnią, to w wyniku obliczenia formuły w C1 zawsze pojawi się liczba parzysta.      | P | F |
| 4. | Jeśli w A1 i B1 wpiszemy dowolną liczbę całkowitą dodatnią, to w wyniku obliczenia formuły w C1 zawsze pojawi się liczba większa niż 1. | P | F |

**Dalsza część zadania na następnej stronie.**

### Zadanie 3.2. (0–1)

Mamy dane operacje (bramki) logiczne na bitach: not oraz and opisane poniżej:

| a | not a |
|---|-------|
| 1 | 0     |
| 0 | 1     |

| a | b | a and b |
|---|---|---------|
| 1 | 1 | 1       |
| 0 | 1 | 0       |
| 1 | 0 | 0       |
| 0 | 0 | 0       |

oraz wyrażenie  $W(a,b)$ :

$(\text{not } ((\text{not } a) \text{ and } b)) \text{ and } (\text{not } (a \text{ and } (\text{not } b)))$

|           |            |          |          |
|-----------|------------|----------|----------|
| <b>1.</b> | $W(0,0)=0$ | <b>P</b> | <b>F</b> |
| <b>2.</b> | $W(1,0)=0$ | <b>P</b> | <b>F</b> |
| <b>3.</b> | $W(0,1)=1$ | <b>P</b> | <b>F</b> |
| <b>4.</b> | $W(1,1)=1$ | <b>P</b> | <b>F</b> |

**Dalsza część zadania na następnej stronie.**

### Zadanie 3.3. (0–1)

Różnica  $1011101_2 - 10111_2$  dwóch liczb zapisanych w systemie binarnym jest:

|    |                         |   |   |
|----|-------------------------|---|---|
| 1. | mniejsza niż $100111_2$ | P | F |
| 2. | równa $1000110_2$       | P | F |
| 3. | większa niż $10111_2$   | P | F |
| 4. | równa $1001000_2$       | P | F |

**Dalsza część zadania na następnej stronie.**

### Zadanie 3.4. (0–1)

W bazie danych istnieje tabela oceny(id\_oceny, id\_ucznia, przedmiot, ocena), zawierająca następujące dane:

| id_oceny | id_ucznia | przedmiot   | ocena |
|----------|-----------|-------------|-------|
| 1        | 1         | matematyka  | 3     |
| 2        | 1         | informatyka | 4     |
| 3        | 1         | fizyka      | 2     |
| 4        | 2         | matematyka  | 6     |
| 5        | 2         | fizyka      | 3     |
| 6        | 2         | informatyka | 5     |
| 7        | 3         | matematyka  | 4     |
| 8        | 3         | fizyka      | 2     |
| 9        | 3         | informatyka | 3     |

|    |  |   |   |
|----|--|---|---|
| 1. | Wynikiem zapytania<br>SELECT COUNT(id_ucznia) FROM oceny;<br>jest 3                              | P | F |
| 2. | Wynikiem zapytania<br>SELECT COUNT (id_ucznia) FROM oceny<br>WHERE przedmiot="fizyka";<br>jest 3 | P | F |
| 3. | Wynikiem zapytania<br>SELECT COUNT(przedmiot) FROM oceny;<br>jest 9                              | P | F |
| 4. | Wynikiem zapytania<br>SELECT COUNT(przedmiot) FROM oceny<br>WHERE ocena > 3;<br>jest 4           | P | F |

**BRUDNOPIS (*nie podlega ocenie*)**