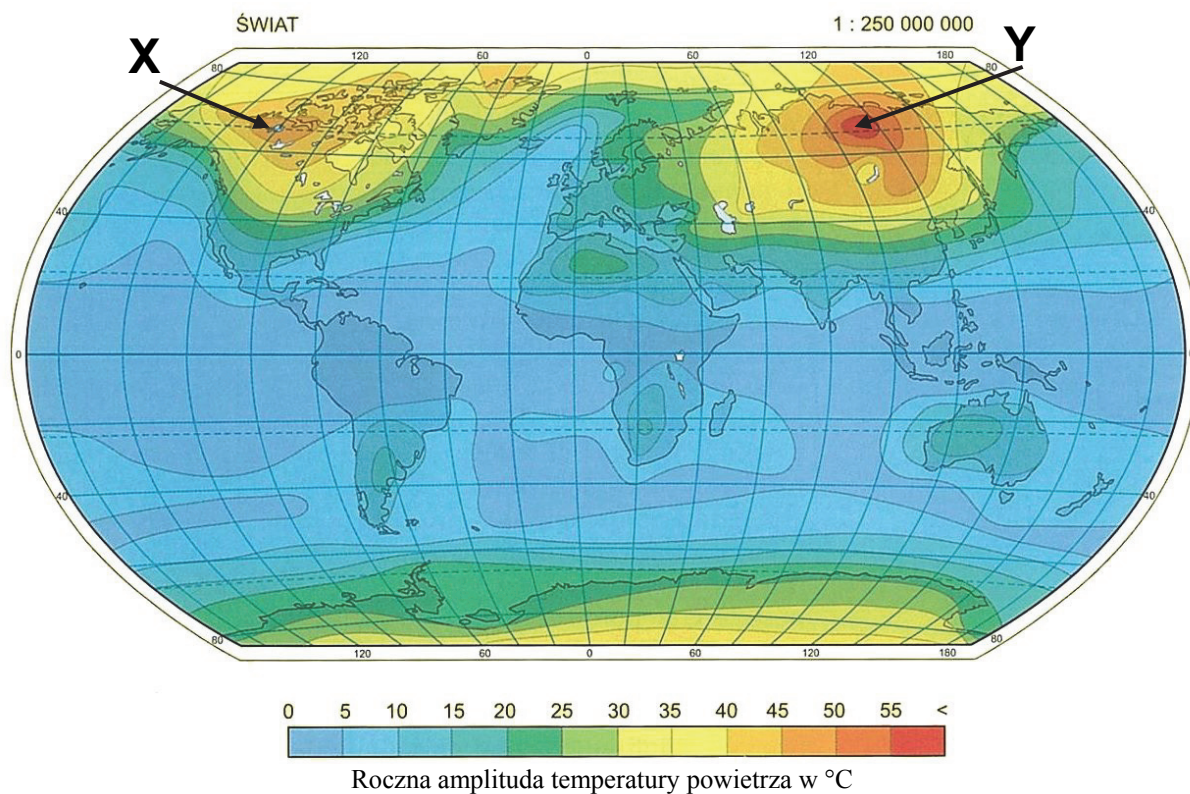


skala 1:50 000
poziomice co 10 m, pogrubione co 50 m

	las; sad		staw; źródło		hotel; agroturystyka
	teren zabudowany; teren przemysłowy		rzeka; strumień; kładka		schronisko; kemping
	ceментarz; park		granica parku krajobrazowego przyrodnicza		pole namiotowe; pole biwakowe
	droga wojewódzka		rezerwat przyrody; atrakcja		parking; leśniczówka
	drogi asfaltowe; przystanek autobusowy		muzeum; zabytek		nieczynna kopalnia; sztolnia
	zakaz wjazdu; most		informacja turystyczna; pomnik		wyciąg narciarski orczykowy
	drogi utwardzone		restauracja; bar		wyciąg krzesełkowy
	budynki użyteczności publicznej; dom		lośnik komercyjny; miejsce odпочыtka; wiat		narciarska trasa zjazdowa
	krzyż; kapliczka; kapliczka zabytkowa		ruiny dworu; inny zabytek		szlaki turystyczne piesze PTTK; początek szlaku pieszego
	kościół zabytkowy; murywany; drewniany		jaszyna udostępniona do zwiedzania; jaskinia		szlaki rowerowe
	wieża RTV; wieża widokowa		kamieniołom; cmentarz; nieczynny		szlaki narciarskie biegowego
	skarpa; urwisko skalne; skarpa		punkt widokowy; glazy		

Material źródłowy do zadań 10.–11.

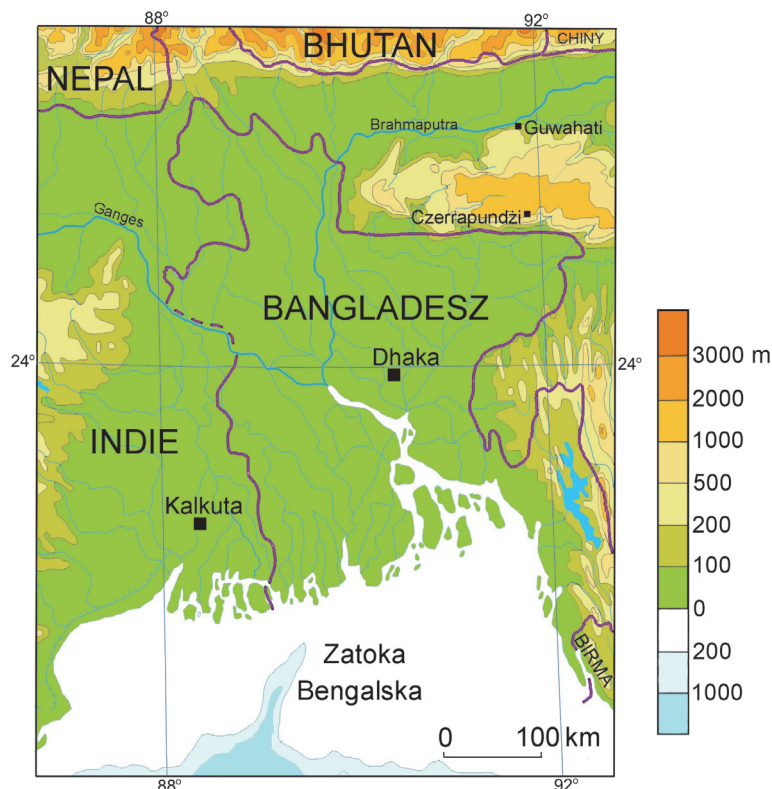
Na mapie przedstawiono średnią roczną amplitudę temperatury powietrza na Ziemi. Literami X i Y oznaczono wybrane obszary.



Na podstawie: *Wielka encyklopedia geografii świata*, Tom V, Poznań 1997.

Material źródłowy do zadań 14.–16.

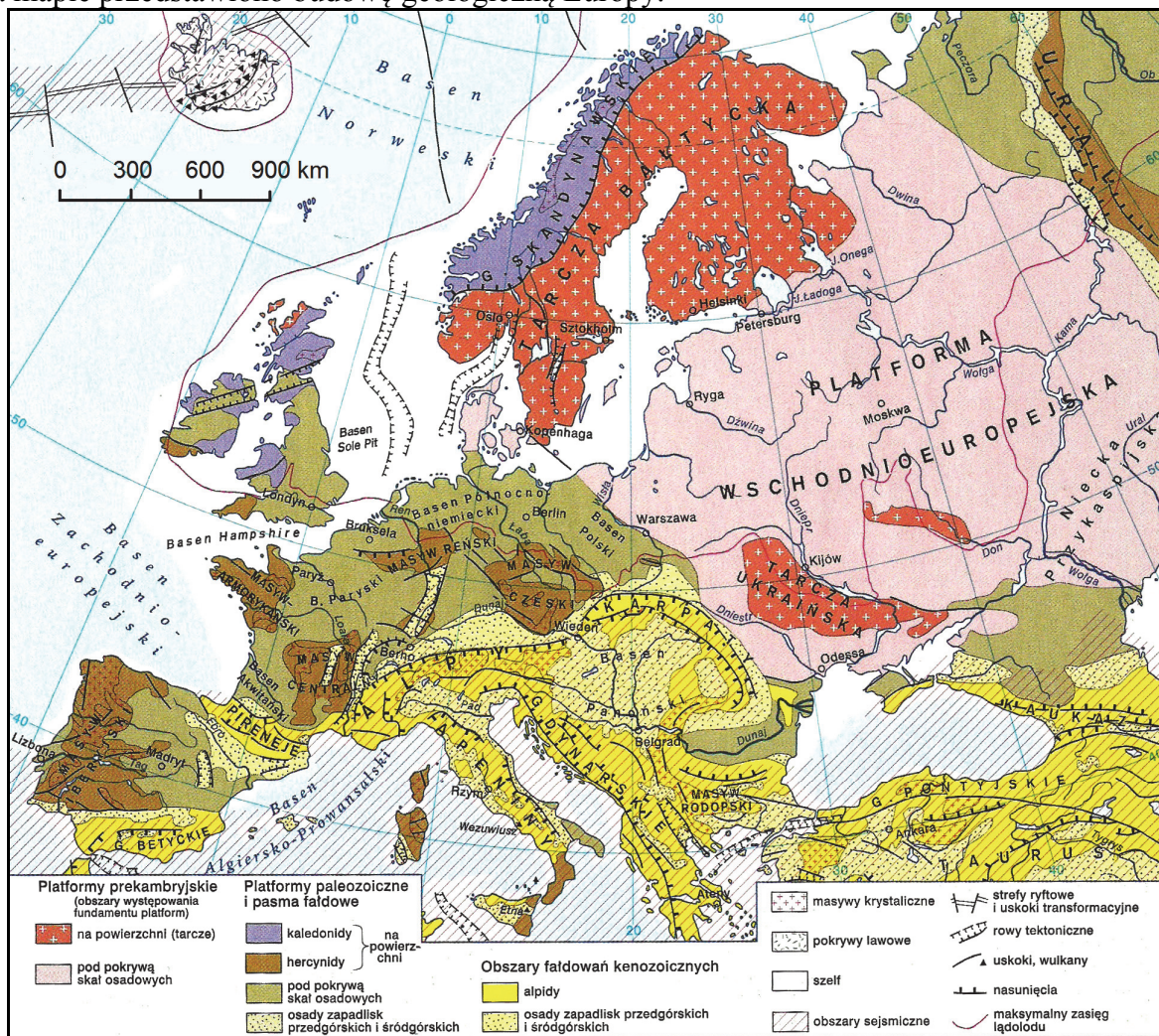
Na mapie przedstawiono ujście Gangesu i Brahmaputry.



Na podstawie: *Atlas geograficzny. Polska, kontynenty, świat*, Piaseczno 2012.

Material źródłowy do zadań 19.–20.


Na mapie przedstawiono budowę geologiczną Europy.



Źródło: Atlas geograficzny. Świat, Polska, Warszawa, 2001.

Material źródłowy do zadań 24.–25.

Na fotografiach przedstawiono wybrane zbiorowiska roślinne występujące w Polsce.



Fot. 1.



Fot. 2.



Fot. 3.

Źródło:

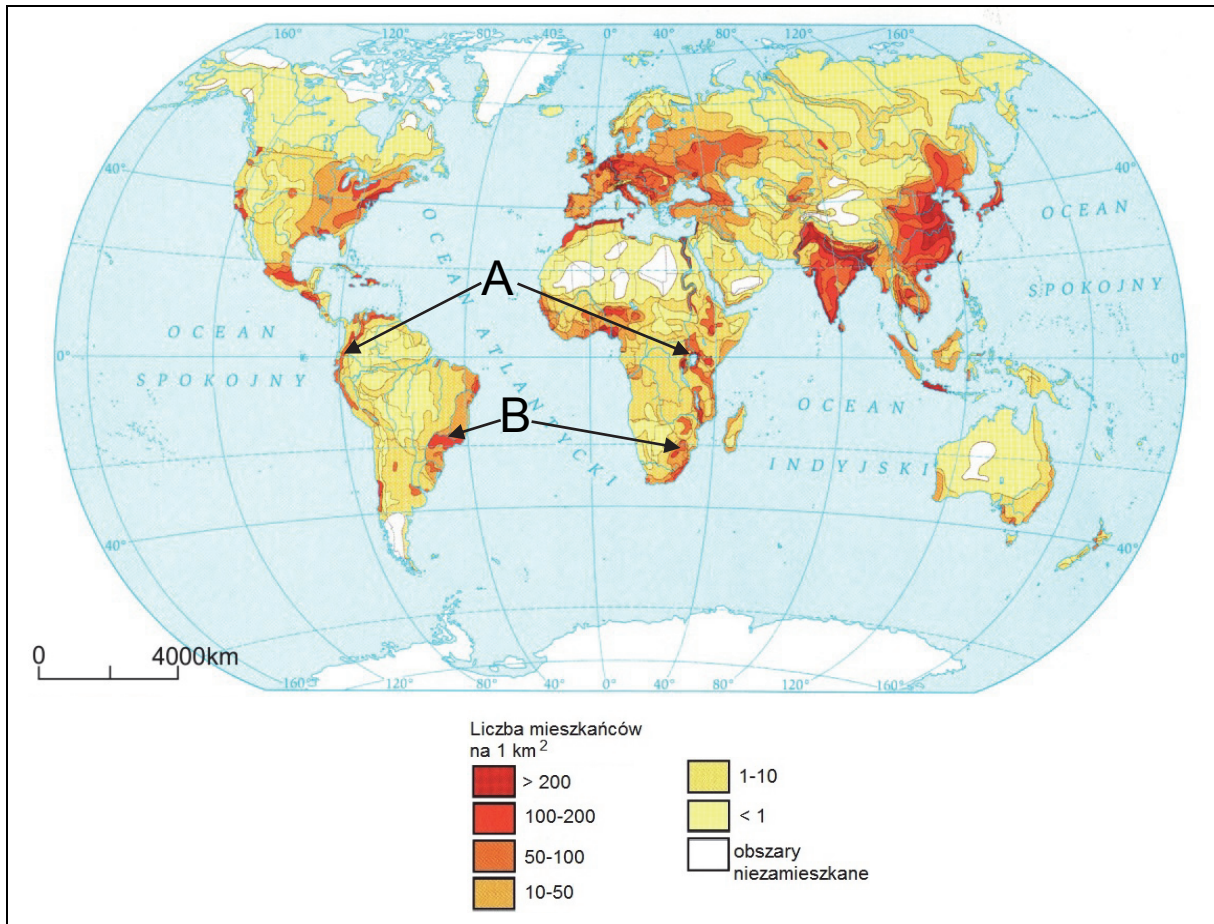
Fot. 1. www.enklawa-natury.pl/natura-2000

Fot. 2. www.polskiekrajobrazy.pl

Fot. 3. www.drzewa.nk4.netmark.pl

Material źródłowy do zadań 26.–29.

Na mapie przedstawiono gęstość zaludnienia na Ziemi.



Na podstawie: *Atlas geograficzny*, Piaseczno 2005.

Material źródłowy do zadania 45.

Na zdjęciu satelitarnym wykonanym w marcu 1991 roku przedstawiono smugi dymów z płonących szybów naftowych na terytorium Kuwejtu.



Na podstawie: www.nasa.gov